

# 第四单元素质测评试卷

(总分:100 分 时间:60 分钟)

题 号	一	二	三	四	五	六	七	八	九	附加题	总 分
得 分											

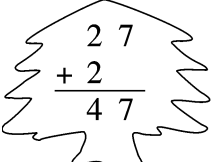
## 一、我会填。(10 分)

1. 用竖式计算时,要注意( **相同数位** )对齐,从( **个** )位加、减起。
2. 56 比 30 多( **26** ),26 比 47 少( **21** )。
3. 58 比( **34** )多 24,比( **79** )少 21。
4. 甲数是 75,乙数是 23,甲、乙两数的和是( **98** ),差是( **52** )。
5. 一年级有两个班,一班有 42 人,二班有 46 人,从每班选 20 人参加团体操表演,( **二** )班剩下的人多,多( **4** )人。

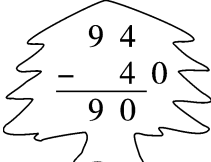
## 二、我是小法官,对错我来判。(5 分)

1. 甲数是 66,乙数是 3,甲、乙两数的和是 63。 ( **×** )
2. 48 比 88 少 40。 ( **√** )
3. 差一定要比减数大。 ( **×** )
4. 一个数加 4 的和一定大于这个数减 4 的差。 ( **√** )
5. 43 加 26 的和比 50 大,比 60 小。 ( **×** )

## 三、森林医生。(对的画“√”,错的画“×”并改正)(6 分)

1.   
( **×** )

改正: 
$$\begin{array}{r} 27 \\ + 2 \\ \hline 29 \end{array}$$

2.   
( **×** )

改正: 
$$\begin{array}{r} 94 \\ - 40 \\ \hline 54 \end{array}$$

#### 四、计算大本营。(21 分)

1. 口算。(9 分)

$24+42=66$

$55+30=85$

$80-70=10$

$40+8=48$

$80-60=20$

$39-7=32$

$30+18=48$

$43+16=59$

$40+20=60$

2. 用竖式计算。(12 分)

$86-24=62$

$25+54=79$

$63+5=68$

$98-45=53$

$$\begin{array}{r} 86 \\ -24 \\ \hline 62 \end{array}$$

$$\begin{array}{r} 25 \\ +54 \\ \hline 79 \end{array}$$

$$\begin{array}{r} 63 \\ +5 \\ \hline 68 \end{array}$$

$$\begin{array}{r} 98 \\ -45 \\ \hline 53 \end{array}$$

#### 五、按要求完成下列各题。(12 分)

1. 我会填。(6 分)

(1)

加 数	32	72	9
加 数	7	4	80
和	39	76	89

(2)

被减数	64	98	81
减 数	23	4	60
差	41	94	21

2. 在 ○ 里填上“>”“<”或“=”。(6 分)

$25+50 \text{ (} = \text{)} 50+25$

$57-4 \text{ (} > \text{)} 54-4$

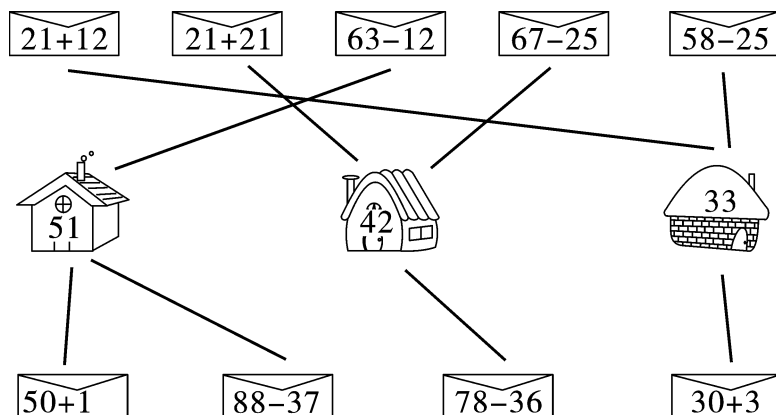
$22+20 \text{ (} > \text{)} 21-21$

$46+22 \text{ (} > \text{)} 46-22$

$80+17 \text{ (} > \text{)} 18+70$

$92-60 \text{ (} < \text{)} 96-20$

#### 六、连一连。(9 分)

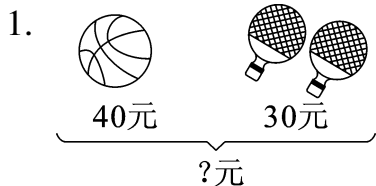


七、在 ○ 里填上“+”或“-”。(8 分)

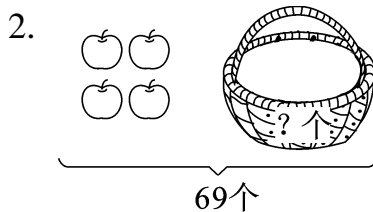
$52 \bigcirc 6 = 58 \quad 42 \bigcirc 24 = 66 \quad 64 \bigcirc 64 = 0 \quad 48 \bigcirc 6 = 42$

$85 \bigcirc 63 = 22 \quad 16 \bigcirc 32 = 48 \quad 95 \bigcirc 24 = 71 \quad 63 \bigcirc 6 = 69$

八、看图列式计算。(8 分)



$$\boxed{40} \bigcirc \boxed{30} = \boxed{70}$$



$$\boxed{69} \bigcirc \boxed{4} = \boxed{65}$$

九、生活中的数学。(21 分)

1. 一(2)班有 38 名同学,现在只有 7 把椅子,如果每人坐 1 把椅子,那么还差多少把椅子?(4 分)

**【答案】** $38-7=31$ (把)

答:还差 31 把椅子。



- 买 1 个足球和 1 个排球一共需要多少元?(4 分)




**【答案】** $63+33=96$ (元)

答:买 1 个足球和 1 个排球一共需要 96 元。

3. 一年级同学种了 89 棵树,其中种了 38 棵杨树,其余的是杏树。一年级同学种了多少棵杏树?(4 分)

**【答案】** $89-38=51$ (棵)

答:一年级同学种了 51 棵杏树。

4.  我有课外书 32 本。  
小芳  
 我的比小芳的少 10 本。  
小红  
 我的比小芳的多 7 本。  
小丽 (9 分)

- (1) 小丽有多少本课外书?

**【答案】** $32+7=39$ (本)

答:小丽有 39 本课外书。

- (2) 小红有多少本课外书?

**【答案】** $32-10=22$ (本)

答:小红有 22 本课外书。

- (3) 你还能提出什么数学问题? 并解答。

**【答案】**(答案不唯一) 如:小丽比小红多多少本课外书?

$39-22=17$ (本)

答:小丽比小红多 17 本课外书。

### 附加题。(10 分)

从下面四张数字卡片中任选两张,组成的两位数中,最大的是多少? 最小的是多少? 它们的差是多少?

7	0	5	4
---	---	---	---

**【答案】**用上面四张数字卡片组成的最大的两位数是 75,最小的两位数是 40,它们的差是 35。